

Př.1.

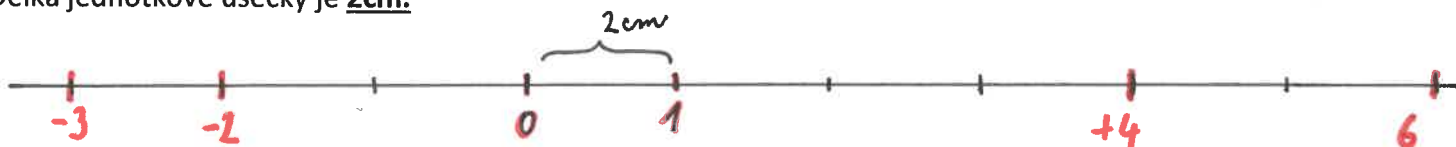
a) Vyznač na číselné ose obrazy čísel 0; 1; +4; 6; -2; -3.

Délka jednotkové úsečky je 1cm.



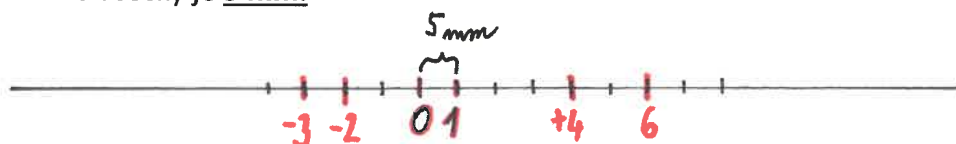
b) Vyznač na číselné ose obrazy čísel 0; 1; +4; 6; -2; -3.

Délka jednotkové úsečky je 2cm.



c) Vyznač na číselné ose obrazy čísel 0; 1; +4; 6; -2; -3.

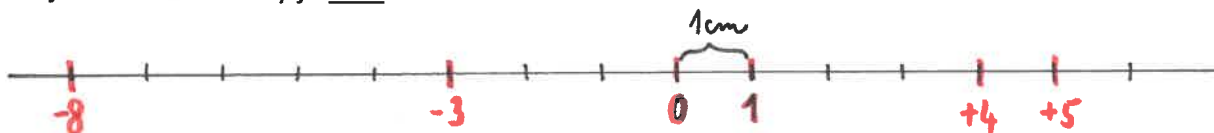
Délka jednotkové úsečky je 5 mm.



Př.2.

Vyznač na číselné ose obrazy čísel 0; 1; -3; -8; +4; +5.

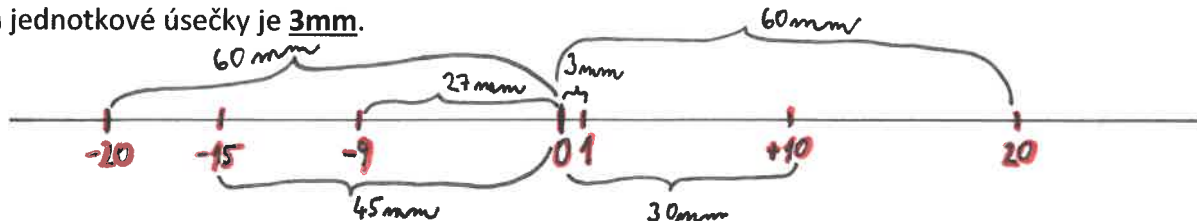
Délka jednotkové úsečky je 1cm.



Př.3.

Vyznač na číselné ose obrazy čísel 0; 1; -20; -15; -9; +10; 20.

Délka jednotkové úsečky je 3mm.



Př.4.

Vyznač na číselné ose obrazy čísel 0; 1; -7; -4; +2; +3.

Délka jednotkové úsečky je 1,5cm = 15 mm.



Př.5.

Vyznač na číselné ose obrazy čísel -157; -156; -155; -154.

Délka jednotkové úsečky je 3cm. (Na číselné ose nemusí být vždy vyznačen obraz čísla nula.)

