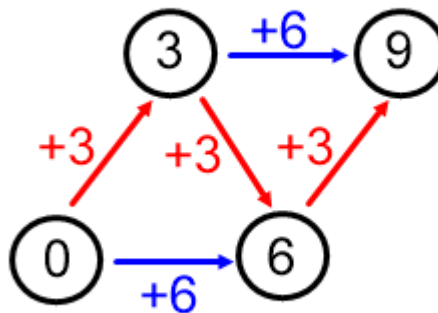


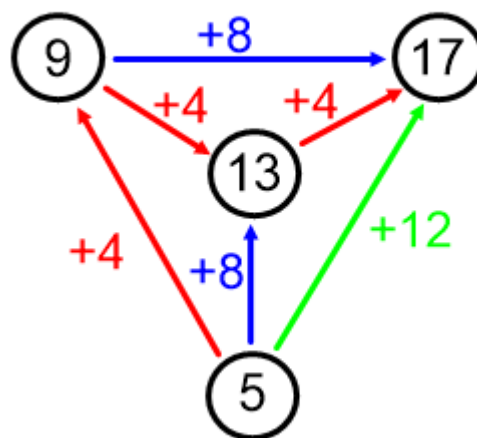
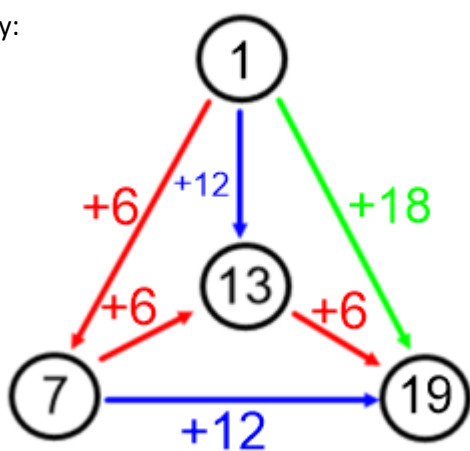
Hejného metoda – Pavučiny

Cvičení:

1. Vyřeš pavučinu P_4 , jestliže její největší číslo je 9.

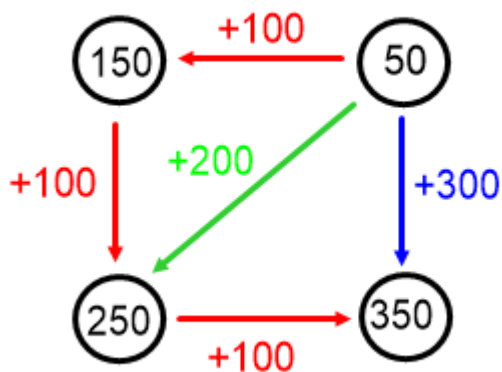


2. Vyřešte pavučiny:



V následujících úlohách se v kolečku mohou objevit i záporná čísla.

3. Vyřešte pavučinu:



4. Vyřešte pavučinu:

