

ŘECKO (NAKRESLI SI VLAJKU)





- Hlavní město:.....
- Počet obyvatel:mil.
- Leží na poloostrovech a , které odděluje průliv - vyznač do mapy
- Důležitým v hospodářství je cestovní ruch a potravinářský průmysl - , , a
- Je kolébkou
- Co znamená výraz „levná vlajka“

ZAKROUŽKUJ, CO PATŘÍ K TOMUTO STÁTU:

ŘECKO



Balkánský
poloostrov



Apeninský
poloostrov

Říp



Peloponéský
poloostrov

Olymp




ŠPANĚLSKO (NAKRESLI SI VLAJKU)



- Počet obyvatel: mil.
- Povrch většinou
- Hlavní město:.....
- Další významné a soupeřící město je
- Kromě Španělu zde žijí národy.....,.....,.....
- Leží na poloostrově, od Afriky jej odděluje průliv (vyznač na mapě)
- Důležitým v hospodářství je opět cestovní ruch a potravinářský průmysl - olivy, olivový olej(1. na světě) citrusové ovoce a víno
- Výroba automobilů značky a chemický průmysl
- Ke Španělsku patří také Kanárské ostrovy - najdete na mapě.

ZAKROUŽKUJ, CO PATŘÍ K TOMUTO STÁTU:

ŠPANĚLSKO



Pyrenejský
poloostrov

Peloponéský
poloostrov



Columbus




PORTUGALSKO (NAKRESLI SI VLAJKU)



- Počet obyvatel: mil.
- Hlavní město:.....
- Méně rozvinuté než Španělsko
- Spolu s Řeckem příjemce velkých dotací z EU
- Světoznámé víno, olivový olej
- 1. na světě v produkci
- Cestovní ruch, rybolov
- Nejzápadnější bod pevninské Evropy -
- Vyhledej na mapě Azory a Madeira

ZAKROUŽKUJ, CO PATŘÍ K TOMUTO STÁTU:

PORTUGALSKO



Pyrenejský
poloostrov



Balkánský
poloostrov

