

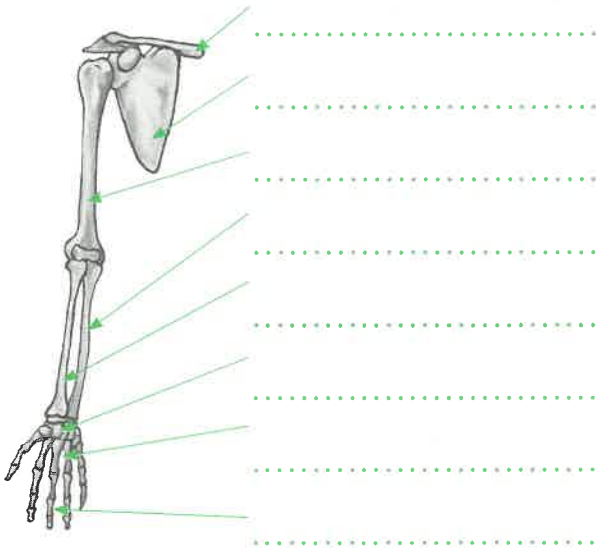
17. Kolik článků prstů má lidská ruka? Porovnejte počet článků prstů ruky a nohy.

a) 15

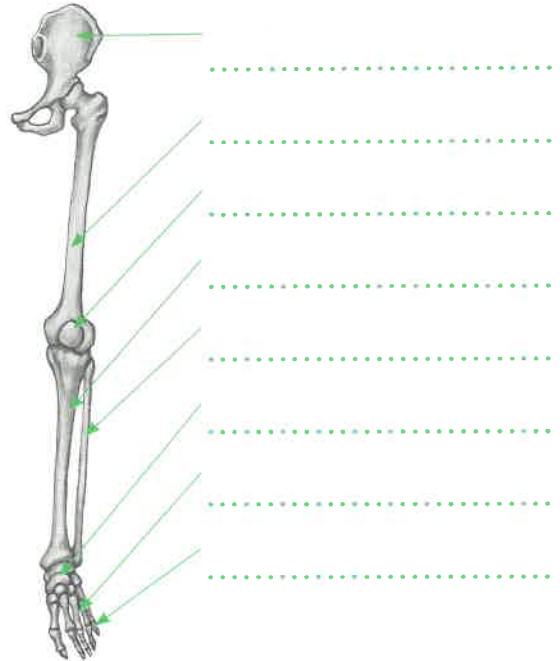
b) 14

c) 13


18. Na následujícím obrázku vyznačte, které kosti tvoří pletenec horní končetiny a které kosti náleží ke kostře volné horní končetiny. Popište jednotlivé kosti horní končetiny.



19. Na obrázku kostry dolní končetiny vyznačte pletenec pánevní a kostru volné dolní končetiny. Popište jednotlivé kosti dolní končetiny.



20. Jak poskytnete první pomoc při zavřené zlomenině loketní kosti? Pokuste se o schematický náčrt.



.....

.....

.....

.....

.....

21. Jak poskytnete první pomoc při otevřené zlomenině holenní kosti? Pokuste se o schematický náčrt.



.....

.....

.....

.....

.....

Poznámky: \_\_\_\_\_

